

Ejercicios de volúmenes de funciones

1. Hallar el volumen del tronco de cono engendrado por la rotación alrededor OX del área limitada por $y = 6 - x$, $y = 0$, $x = 0$, $x = 4$.

2. Calcular el volumen que engendra un triángulo de vértices A(3, 0), B(6, 3), C(8, 0) al girar 360° alrededor del eje OX.

3. Hallar el volumen del tronco de cono engendrado por el trapecio que limita el eje de abscisas, la recta $y = x + 2$ y las coordenadas correspondientes a $x = 4$ y $x = 10$, al girar alrededor de OX.

4. Calcular el volumen engendrado por una semionda de la senoide $y = \sin x$, al girar alrededor del eje OX.

5. Calcular el volumen engendrado al girar alrededor del eje OX el recinto limitado por las gráficas de $y = 2x - x^2$, $y = -x + 2$.

6. Hallar el volumen del cuerpo revolución engendrado al girar alrededor del eje OX, la región determinada por la función $f(x) = 1/2 + \cos x$, el eje de abscisas y las rectas $x = 0$ y $x = \pi$.

7. Calcular el volumen del cuerpo engendrado al girar alrededor del eje OX el recinto limitado por las gráficas de $y = 6x - x^2$, $y = x$.

8. Hallar el volumen engendrado por el círculo $x^2 + y^2 - 4x = -3$ al girar alrededor del eje OX.

9. Hallar el volumen de la figura engendada al girar la elipse $\frac{x^2}{a^2} + \frac{y^2}{b^2} = 1$ alrededor del eje OX.

Soluciones ejercicios de volúmenes de funciones

1

Hallar el volumen del tronco de cono engendrado por la rotación alrededor OX del área limitada por $y = 6 - x$, $y = 0$, $x = 0$, $x = 4$.



$$V = \pi \int_0^4 (6 - x)^2 dx = \pi \left[36x - 6x^2 + \frac{x^3}{3} \right]_0^4 = \frac{208}{3} u^3$$

2

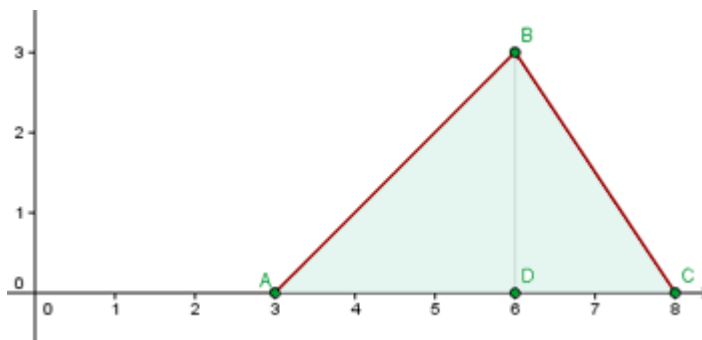
Calcular el volumen que engendra un triángulo de vértices A(3, 0), B(6, 3), C(8, 0) al girar 360° alrededor del eje OX.

Ecuación de la recta que pasa por AB:

$$\frac{x-3}{6-3} = \frac{y-0}{3-0} \quad y = x - 3$$

Ecuación de la recta que pasa por BC:

$$\frac{x-8}{6-8} = \frac{y-0}{3-0} \quad y = -\frac{3}{2}(x-8)$$



$$\begin{aligned} V &= \pi \int_3^6 (x-3)^2 dx + \pi \int_6^8 \left[-\frac{3}{2}(x-8) \right]^2 dx = \\ &= \pi \int_3^6 (x^2 - 6x + 9) dx + \pi \int_6^8 \left[\frac{9}{4}(x^2 - 16x + 64) \right] dx = \\ &= \pi \left[\frac{x^3}{3} - 3x^2 + 19x \right]_3^6 + \frac{9\pi}{4} \left[\frac{x^3}{3} - 8x^2 + 64x \right]_6^8 = \end{aligned}$$

$$= \pi(72 - 108 + 54 - 9 + 27 - 27) + \frac{9\pi}{4} \left(\frac{512}{3} - 512 + 512 - 72 + 288 - 384 \right) = 15\pi u^3$$

3

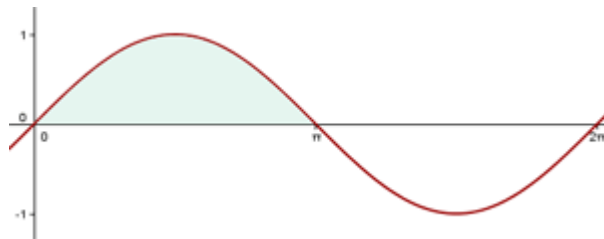
Hallar el volumen del tronco de cono engendrado por el trapecio que limita el eje de abscisas, la recta $y = x + 2$ y las coordenadas correspondientes a $x = 4$ y $x = 10$, al girar alrededor de OX.

$$V = \pi \int_4^{10} (x+2)^2 dx = \pi \int_4^{10} (x^2 + 4x + 4) dx = \pi \left[\frac{x^3}{3} + 2x^2 + 4x \right]_4^{10} =$$

$$= \pi \left(\frac{1000}{3} + 200 + 40 - \frac{64}{3} - 32 - 16 \right) = 504\pi u^3$$

4

Calcular el volumen engendrado por una semionda de la senoide $y = \sin x$, al girar alrededor del eje OX.



$$V = \pi \int_0^{\pi} \sin^2 x dx = \pi \int_0^{\pi} \frac{1 - \cos 2x}{2} dx =$$

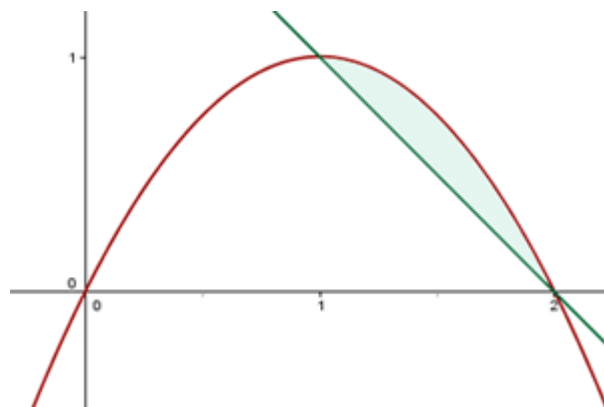
$$= \frac{\pi}{2} \left[x - \frac{1}{2} \sin 2x \right]_0^{\pi} = \frac{\pi}{2} (\pi - 0) = \frac{\pi^2}{2} u^3$$

5

Calcular el volumen engendrado al girar alrededor del eje OX el recinto limitado por las gráficas de $y = 2x - x^2$, $y = -x + 2$.

Puntos de intersección entre la parábola y la recta:

$$\begin{cases} y = 2x - x^2 \\ y = -x + 2 \end{cases} \quad 2x - x^2 = -x + 2 \quad (1,1) \quad (2,0)$$



La parábola está por encima de la recta en el intervalo de integración.

$$V = \pi \int_1^2 \left[(2x - x^2)^2 - (-x + 2)^2 \right] dx = \pi \int_1^2 (x^4 - 4x^3 + 3x^2 + 4x - 4) dx =$$

$$= \pi \left[\frac{1}{5}x^5 - x^4 + x^3 + 2x^2 - 4x \right]_1^2 = \frac{\pi}{5} u^3$$

6

Hallar el volumen del cuerpo revolución engendrado al girar alrededor del eje OX, la región determinada por la función $f(x) = 1/2 + \cos x$, el eje de abscisas y las rectas $x = 0$ y $x = \pi$.

$$V = \pi \int_0^\pi \left(\frac{1}{2} + \cos x \right)^2 dx = \pi \int_0^\pi \left(\frac{1}{4} + \cos x + \cos^2 x \right) dx =$$

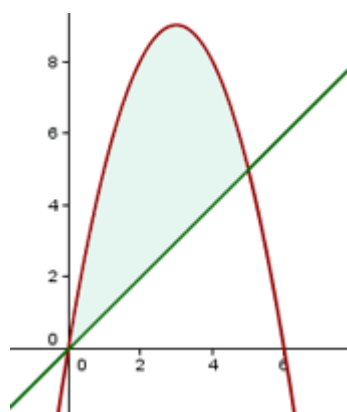
$$= \pi \left[\frac{1}{4}x + \sin x + \frac{1}{2}x + \frac{1}{4}\sin 2x \right]_0^\pi = \frac{3\pi}{4} u^3$$

7

Calcular el volumen del cuerpo engendrado al girar alrededor del eje OX el recinto limitado por las gráficas de $y = 6x - x^2$, $i = x$.

Puntos de intersección:

$$\begin{cases} y = 6x - x^2 \\ y = x \end{cases} \quad 6x - x^2 = x \quad (0,0) \quad (5,5)$$



La parábola quier por encima de la recta en el intervalo de integración.

$$V = \pi \int_0^5 \left[(6x - x^2)^2 - x^2 \right] dx = \pi \left[\frac{1}{5}x^5 - 3x^4 + \frac{35}{3}x^3 \right]_0^5 = \frac{625\pi}{3} u^3$$

8

Hallar el volumen engendrado por el círculo $x^2 + y^2 - 4x = -3$ al girar alrededor del eje OX.

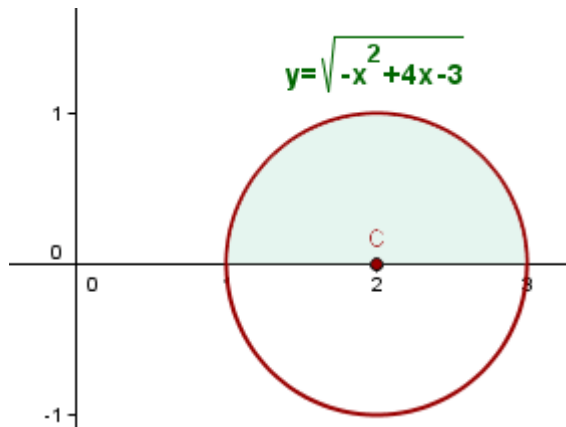
$$x^2 - 4x + 4 - 4 + y^2 = -3$$

$$(x - 2)^2 + y^2 = 1$$

El centro de la circunferencia es $C(0, 1)$ y el radio $r = 1$.

Puntos de corte con el eje OX:

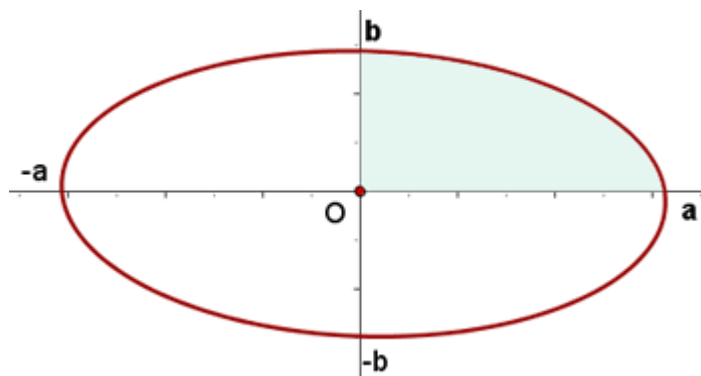
$$\begin{cases} (x-2)^2 + y^2 = 1 \\ y = 0 \end{cases} \quad (1,0) \quad (3,0)$$



$$\begin{aligned} V &= \pi \int_1^3 \left(\sqrt{-x^2 + 4x - 3} \right)^2 dx = \pi \int_1^3 (-x^2 + 4x - 3) dx = \\ &= \left[-\frac{1}{3}x^3 + 2x^2 - 3x \right]_1^3 = \frac{4\pi}{3} u^3 \end{aligned}$$

9

Hallar el volumen de la figura engendrada al girar la elipse $\frac{x^2}{a^2} + \frac{y^2}{b^2} = 1$ alrededor del eje OX.



$$\frac{x^2}{a^2} + \frac{y^2}{b^2} = 1 \quad y = \pm \frac{b}{a} \sqrt{a^2 - x^2}$$

Por ser la elipse una curva simétrica, el volumen pedido es 2 en vezes el volumen engendrado por el

arco $y = \frac{b}{a} \sqrt{a^2 - x^2}$ entre $x = 0$ y $x = a$.

$$\begin{aligned} V &= 2\pi \int_0^a \left[\frac{b^2}{a^2} (a^2 - x^2) \right] dx = \frac{2b^2 \pi}{a^2} \int_0^a (a^2 - x^2) dx = \\ &= \frac{2b^2 \pi}{a^2} \left[a^2 x - \frac{1}{3} x^3 \right]_0^a = \frac{2b^2 \pi}{a^2} \left(a^3 - \frac{1}{3} a^3 \right) = \frac{4}{3} ab^2 \pi \end{aligned}$$